


2022.|2023. sezona
OTRĀ ATLASĒS ANKETA

Venta un Irbe

1. Katram ģerbonim pieraksti pilsētas nosaukumu, kā arī organismu, kas tajā attēlots. (12 p)




Auce
Vēzis



Brocēni
Ūdensrozēs



Kandava
Ozols (ozolzīles, ozolzars)



Sabile
Vīnogas

Izvēlies vienu no šīm pilsētām un atrodi informāciju.

Pilsētas nosaukums	Auce	Brocēni	Kandava	Sabile
Pirmoreiz minēta vēstures avotos	1576.g.	1528.g.	1230.g.	1253.g.
legūtas pilsētas tiesības	1924.g.	1992.g.	1917.g.	1917.g.
Dabas rajons	Viduslatvijas zemene (Vadakstes līdzenums) vai Austrumkursas augstiene	Austrumkursas augstiene (Saldus pauguraine)	Austrumkursas augstiene (Spārnenes viļņotais līdzenums) vai Ziemeļkursas augstiene	Austrumkursas augstiene (Saldus pauguraine) vai Ziemeļkursas augstiene
Augstums virs jūras līmeņa	~ 91-100 m	~ 117-119 m	~ 30-80 m	~ 30-86 m

2. Savieno ar Usmas ezeru saistītos nosaukumus (vidējā kolonna) un atbilstošos aprakstus. (20 p)

18. Moricsalas senākais nosaukums	1. Amjūdzupe	2. Līcis ezera ziemeļu daļā
16. Usmas ezerā ietekoša upe	2. Bērzagdanga	11. Līcis ezera dienvidu daļā
13. Engures upe savieno ar Usmas ezeru	3. Dāsnā usneja	9. Ezera līcis, kas iekļauts Moricsalas rezervātā
12. Pirmais rezervāts Latvijā	4. Engures upe	15. Zemesrags ezera rietumu daļā
10. Atrodas iepretim Varžupītes un Kāņupes ietekām	5. Gludā nekera	14. Zemesrags Viskūžu salā
20. Lielākā ezersala Latvijā	6. Ķīķis	19. Zemesrags Moricsalā
7. Atrodas pie Ozoldangas un Lošraga	7. Lielalksnīte	8. Reta, aizsargājama ūdensaugu suga, kas sastopama ezerā
1. Aptuveni 1,3 km garš šaurums ezerā	8. Lokanā najāda	5. Reta, aizsargājama sūnu suga, kas sastopama Moricsalā
4. Uz tās bijusi uzbūvēta zušu ķeramā ierīce	9. Luziķertes līcis	3. Reta, aizsargājama ķērpju suga, kas sastopama Moricsalā
17. Tuvākais ezers Usmas ezeram	10. Mazalksnīte	6. Īpaši aizsargājama putnu suga, kas sastopama Moricsalā
	11. Meķgals	
	12. Moricsala	
	13. Puzes ezers	
	14. Saukumrags	
	15. Sineprags	
	16. Struncene	
	17. Tirukšezers	
	18. Usmas kalva	
	19. Viesuļrags	
	20. Viskūžu sala	

3. Salīdzini Ventu un Irbi. (24 p)

	Venta	Irbe
Pilnais garums	346 km	32 km
Baseina platība	11811 (6613 LV robežās) km ²	1924 km ²
Garākā pieteka	Virviča / Abava	Dižgrāvis
Upes sākumpunkts	Veņu ezers	Satekot Rindai un Stendei
Tecējuma raksturojums	<ul style="list-style-type: none"> • Upē krāčaini posmi mijās ar mierīgiem un dziļiem posmiem, daudz saliņu • Augštecē straume ātrāka, lejtecē lēna 	<ul style="list-style-type: none"> • Plūdums vienmērīgs, bez kritumiem, krācēm. Līkumota visā garumā, ar daudzām vecupēm un saliņām • Lejtece plata, gandrīz bez straumes. Pie ietekas jūrā veido garu smilšu strēli
Cilvēka radītās izmaiņas upē	<ul style="list-style-type: none"> • Lai novērstu plūdus, izmainīts dabiskais tecējums. Meliorācijas ietekme, HES upes augštecē, peldvietu izveide • Piesārņojuma ieplūde, mēslojuma notece no lauksaimniecības zemēm, notekūdeņu piesārņojums, tūrisma slodze 	<ul style="list-style-type: none"> • Taisnošana un padziļināšana, militāro bāzu ietekme • Piesārņojuma ieplūde, tūrisma maršruta – atpūtas vietu izveide
Upes saimnieciskā izmantošana	<ul style="list-style-type: none"> • Ūdens tūrisms, zvejošana, makšķerēšana, peldēšana • Osta – Ventspils, transports, laivošana, atpūta pie ūdens 	<ul style="list-style-type: none"> • Makšķerēšana, zvejniecība • Tūrisms, aktīvā atpūta, laivošana, senāk tika pludināti baļķi
Dabas aizsardzības izaicinājumi	<ul style="list-style-type: none"> • Tūrisma plūsma – uzkopšana un labiekārtošana • Upes aizaugšana ar ūdenszālēm, augu pļaušana. Lašu populācijas aizsardzība 	<ul style="list-style-type: none"> • Zems skābekļa daudzums upē • Upes aizaugšana, tūristu radīts piesārņojums, atkritumi

4. Atzīmē kartē dotos dabas un kultūrvēsturiskos objektus. (12 p)



A Abavas Rumba



B Dundagas pils



C Kabiles muiža



D Kaives Senču ozols



E Kuldīgas senais ķieģeļu
tilts



F Pelču muiža



G Popes muiža



H Reņģes muižas pils



I Skrundas muiža



J Strūklaka "Medus piliens"

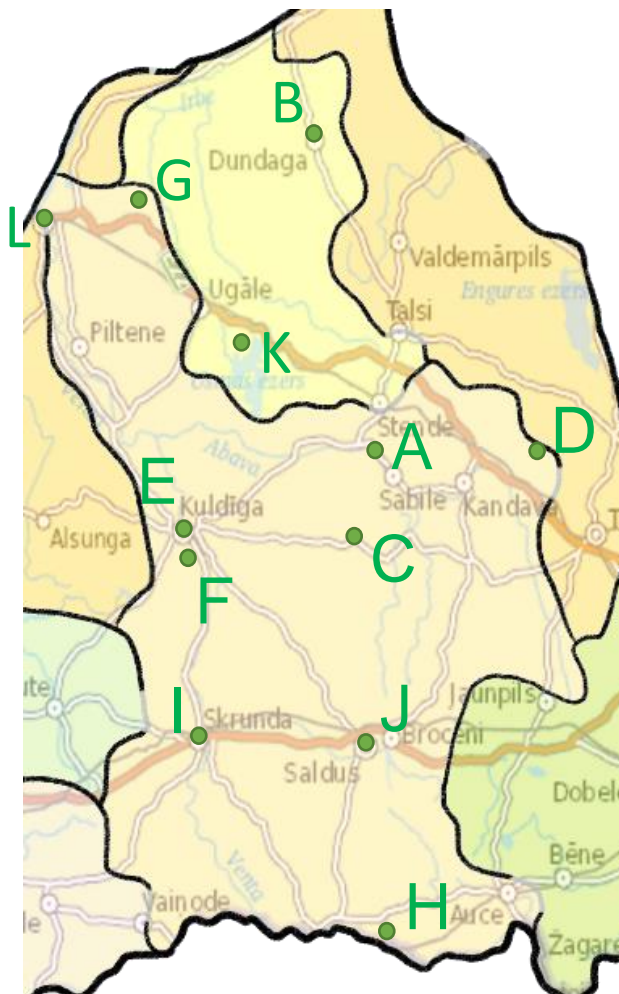


K Usmas luterāņu baznīca



L Ventspils dzelzceļa stacija

Katru objektu kartē atzīmē ar burtu, kas dots pie nosaukuma.



5. Atzīmē pareizo atbildi. (12 p)

1. Kur atrodas vienīgā ērģeļbūves darbnīca Latvijā?

- A) Aizputē B) Dundagā C) Talsos **D) Ugaļē**

2. Žograusis ir _____.

- A) māzeris **B) tradicionāls lībiešu ēdiens** C) piepju suga D) sens karēļu mūzikas instruments

3. Kādas senas Latvijā izveidotas liellopu šķirnes atjaunošanā piedalās Rīgas Nacionālā zooloģiskā dārza filiāle "Cīruļi"?

- A) Hailandes govys B) Latvijas brūnā C) Lielragu govys **D) Zilā govys**

4. Kura Latvijas selekcionāra radītas vīnogu šķirnes audzē Sabiles vīna kalnā?

- A) J. Rukšāns **B) P. Sukatnieks** C) P. Upītis D) R. Kondratovičs

5. Miķeļtorņa bāka ir _____ bāka Latvijā.

- A) augstākā** B) jaunākā C) senākā D) vienīgā koka konstrukcijas

6. Cik liels attālums ir starp vienu no augstākajiem ūdenskritumiem Latvijā (Aleksūpītes ūdenskritumu) un Eiropas platāko dabisko ūdenskritumu?

A) ~300 m

B) ~1,7 km

C) ~15 km

D) ~185 km

7. Šis skujkoks savvaļā visbiežāk sastopams Kurzemes piekrastē.

A) Eiropas lapegle

B) Parastā īve

C) Rietumu tūja

D) Zviedrijas kadiķis

8. Ventspilī atrodamas 28 govju skulptūras. Kura no dotajām neiederas starp pārējām?

A) Govs Brīze

B) Govs Ceļotāja

C) Govs Matrozis

D) Puķu govjs

9. Kurā Latvijas pilsētā atrodas attēlā redzamās gleznas autora vārdā nosaukts muzejs?



A) Brocēni

B) Kabile

C) Kandava

D) Saldus

10. Piekrastes ciemus agrāk apdzīvoja galvenokārt zvejnieki, viens no tādiem ir Mazirbe, kur atrodas _____.

A) Laivu kapsēta

B) Laivu muzejs

C) Tīklu muzejs

D) Zvejnieku muzejs

11. Vimbu vērošana pavasarī ir populāra aktivitāte _____.

A) Kuldīgā

B) Sabilē

C) Skrundā

D) Ventspilī

12. Kurā dabas parkā sastopama krūmu čuža?

A) Abavas senleja

B) Čužu purvs

C) Plunču ezera meži

D) Stiklu purvi

📍 **ATBILŽU IESŪTĪŠANAS TERMIŅŠ NO 14. DECEMBRA LĪDZ 18. JANVĀRIM.**

ZIŅAS PAR KOMANDU

Komandas nosaukums: _____

Skola, klase: _____

Komandas kontaktinformācija:

E-pasts: _____

Telefona numurs: _____

IESNIEDZOT ŠO ANKETU, ESMU IEPAZINĪES AR KONKURSA NOLIKUMU!